

ПРОЕКТ

**Спецификация
экзаменационных материалов для проведения в 2020 году
государственного выпускного экзамена по МАТЕМАТИКЕ
(письменная форма)
для обучающихся по образовательным программам
СРЕДНЕГО общего образования**

1. Назначение экзаменационной работы

Государственный выпускной экзамен (ГВЭ) представляет собой форму государственной итоговой аттестации для обучающихся в специальных учебно-воспитательных учреждениях закрытого типа, а также в учреждениях, исполняющих наказание в виде лишения свободы, для обучающихся по образовательным программам среднего профессионального образования, получающих среднее общее образование по имеющим государственную аккредитацию образовательным программам среднего общего образования, в том числе по образовательным программам среднего профессионального образования, интегрированным с образовательными программами основного общего и среднего общего образования, для обучающихся с ограниченными возможностями здоровья, для обучающихся - детей-инвалидов и инвалидов, осваивающих образовательные программы среднего общего образования.

ГВЭ позволяет установить уровень освоения выпускниками федерального компонента государственного образовательного стандарта среднего (полного) общего образования по математике, базовый уровень.

ГВЭ проводится в соответствии с Федеральным законом «Об образовании в Российской Федерации» от 29.12.2012 № 273-ФЗ и Порядком проведения государственной итоговой аттестации по образовательным программам среднего общего образования, утвержденным приказом Минпросвещения России и Рособнадзора от 07.11.2018 № 190/1512.

2. Документы, определяющие содержание экзаменационной работы

Содержание экзаменационных материалов ГВЭ-11 в письменной форме составлено на основе федерального компонента государственного образовательного стандарта среднего (полного) общего образования по математике, базовый уровень (приказ Минобрнауки России от 05.03.2004 № 1089 «Об утверждении федерального компонента государственных образовательных стандартов начального общего, основного общего и среднего (полного) общего образования»).

3. Виды экзаменационной работы ГВЭ-11 по математике (письменная форма)

Письменный экзамен ГВЭ-11 по математике проводится в нескольких форматах в целях учёта возможностей разных категорий его участников: участников без ОВЗ и участников с ОВЗ.

1. Экзаменационные материалы с 100-ми номерами вариантов – участники ГВЭ-11 без ОВЗ и с ОВЗ (за исключением участников ГИА с задержкой психического развития, обучающихся по адаптированным основным образовательным программам).

2. Экзаменационные материалы с 200-ми номерами вариантов – участники ГВЭ с задержкой психического развития, обучающиеся по адаптированным основным образовательным программам.

3. Экзаменационные материалы с 300-ми номерами вариантов – слепые, слабовидящие и поздноослепшие обучающиеся, владеющие шрифтом Брайля. Экзаменационные материалы аналогичны материалам с 100-ми номерами вариантов, но в текстах заданий сведены к минимуму визуальные образы.

Описание экзаменационной работы с 100-ми и 300-ми номерами вариантов

4. Структура и содержание экзаменационной работы

Каждый вариант экзаменационной работы содержит 12 заданий, из которых 10 заданий с кратким ответом, в которых необходимо записать ответ в виде целого числа, конечной десятичной дроби или последовательности цифр, и 2 задания с развёрнутым ответом.

Задания 1–10 с кратким ответом группируются исходя из тематической принадлежности заданий: алгебра, уравнения и неравенства, функции, начала математического анализа, геометрия (планиметрия и стереометрия).

Задания 11 и 12 с развёрнутым ответом проверяют освоение математики на повышенном уровне, необходимом для применения математики в профессиональной деятельности.

В экзаменационной работе контролируются элементы содержания из следующих курсов математики:

1. *Математика*. 5–6-е классы;
2. *Алгебра*. 7–9-е классы;
3. *Алгебра и начала математического анализа*. 10–11-е классы;
4. *Планиметрия*. 7–9-е классы;
5. *Стереометрия*. 10–11-е классы;
6. *Вероятность и статистика*. 7–9-е классы.

В таблице 1 приведено распределение заданий по основным содержательным разделам.

Таблица 1. Распределение заданий по основным содержательным разделам (темам) курса математики

Содержательные разделы	Количество заданий
Алгебра	5
Уравнения и неравенства	2
Функции	1
Начала математического анализа	1
Геометрия	3
Итого	12

Экзаменационная работа проверяет освоение выпускниками наиболее важных умений, формируемых при изучении курса математики:

- уметь использовать приобретённые знания и умения в практической деятельности и повседневной жизни;
- уметь выполнять вычисления и преобразования;
- уметь решать уравнения и неравенства;
- уметь выполнять действия с функциями;
- уметь выполнять действия с геометрическими фигурами, координатами и векторами;
- уметь строить и исследовать математические модели.

В таблице 2 приведено распределение заданий по видам умений и способам действий. Некоторые задания проверяют освоение нескольких видов умений и способов действий.

Таблица 2. Распределение заданий по видам умений и способам действий

Проверяемые виды умений и способов действий	Количество заданий
Уметь использовать приобретённые знания и умения в практической деятельности и повседневной жизни	5
Уметь выполнять вычисления и преобразования	6
Уметь решать уравнения и неравенства	3
Уметь выполнять действия с функциями	1
Уметь выполнять действия с геометрическими фигурами, координатами и векторами	2
Уметь строить и исследовать математические модели	1

В экзаменационной работе представлены задания базового и повышенного уровней сложности. К заданиям базового уровня относится

9 заданий с кратким ответом. Эти задания направлены на проверку освоения базовых умений и практических навыков применения математических знаний в повседневных ситуациях. К заданиям повышенного уровня относится 3 задания. В таблице 3 представлено распределение заданий по уровням сложности.

Таблица 3. Распределение заданий по уровням сложности

Уровень сложности заданий	Количество заданий	Максимальный балл	Процент максимального балла за задания данного уровня сложности от максимального балла за всю работу, равного 14
Базовый	9	9	64
Повышенный	3	5	36
Итого	12	14	100

5. Система оценивания выполнения отдельных заданий и экзаменационной работы в целом

Каждое из заданий 1–10 с кратким ответом считается выполненным, если записанный ответ совпадает с верным ответом. Задания 11 и 12 оцениваются 2 баллами, если верно выполнены оба пункта задания; 1 баллом, если верно выполнен один пункт задания, и 0 баллов в других случаях.

Задание с развёрнутым ответом оценивается экспертом с учётом правильности и полноты ответа. Максимальный первичный балл за задание с развёрнутым ответом — 2. К заданию приводится подробная инструкция для экспертов, в которой указывается, за что выставляется каждый балл — от нуля до максимального балла. В экзаменационном варианте перед каждым типом задания предлагается инструкция, в которой приведены общие требования к оформлению ответов.

Максимальный балл за всю работу — 14.

Рекомендуется следующая шкала перевода суммы первичных баллов в пятибалльную систему оценивания.

Шкала пересчёта первичного балла за выполнение экзаменационной работы в отметку по пятибалльной шкале

Отметка по пятибалльной шкале	«2»	«3»	«4»	«5»
Общий балл	0–3	4–6	7–9	10–14

6. Продолжительность экзаменационной работы

На выполнение экзаменационной работы по математике предоставляется 3 часа 55 минут (235 минут).

7. Дополнительные материалы и оборудование

При проведении ГВЭ-11 в письменной форме используется: линейка, не содержащая справочной информации; справочные материалы, содержащие основные формулы курса математики образовательной программы основного общего и среднего общего образования.

Перечень средств обучения и воспитания, использование которых разрешено при проведении ГВЭ-11, утверждается приказом Минпросвещения России и Рособнадзора.

8. Изменения в экзаменационных материалах 2020 года по сравнению с 2019 годом.

Изменения в структуре и содержании экзаменационных материалов в 2020 году отсутствуют.

В Приложении приведён обобщённый план экзаменационной работы.

**Обобщённый план варианта экзаменационной работы ГВЭ-11
по математике
(100-е и 300-е номера вариантов)**

Уровни сложности задания: Б – базовый (примерный уровень выполнения – 60–90%); П – повышенный (20–60%).

№	Проверяемые требования (умения)	Коды проверяемых требований (по КТ)	Коды проверяемых элементов содержания (по КЭС)	Уровень сложности задания	Максимальный балл за выполнение задания
1	Уметь использовать приобретённые знания и умения в практической деятельности и повседневной жизни	6.1	1.4.1	Б	1
2	Уметь использовать приобретённые знания и умения в практической деятельности и повседневной жизни	6.3	1.1.3	Б	1
3	Уметь решать уравнения и неравенства	2.1	2.1.1–2.1.6	Б	1
4	Уметь строить и исследовать простейшие математические модели	5.4	6.3.1	Б	1
5	Уметь использовать приобретённые знания и умения в практической деятельности и повседневной жизни	6.2, 3.1	6.2.1, 3.1.3	Б	1
6	Уметь выполнять вычисления и преобразования	1.1	1.1–1.4	Б	1
7	Уметь выполнять действия с геометрическими фигурами	4.1	5.1.1–5.1.5, 5.5.1, 5.5.3, 5.5.5	Б	1
8	Уметь строить и исследовать простейшие математические модели	4.1, 5.2	5.1.1–5.1.3, 5.5.1, 5.5.3, 5.5.5	Б	1
9	Уметь выполнять действия с функциями	3.1–3.3	4.1–4.3	Б	1
10	Уметь строить и исследовать простейшие математические модели	5.1	2.1, 2.2	П	1
11	Уметь решать уравнения и неравенства	2.1–2.3	2.1, 2.2	П	2
12	Уметь выполнять действия с геометрическими фигурами, координатами и векторами	4.2, 4.3, 5.2, 5.3	5.2–5.6	П	2

№	Проверяемые требования (умения)	Коды проверяемых требований (по КТ)	Коды проверяемых элементов содержания (по КЭС)	Уровень сложности задания	Максимальный балл за выполнение задания
<p>Всего заданий – 12; из них по типу заданий: с записью краткого ответа – 10; с развернутым ответом – 2; по уровню сложности: Б – 9; П – 3. Максимальный балл – 14. Общее время выполнения работы – 235 минут.</p>					

Описание экзаменационной работы с 200-ми номерами вариантов

3. Структура и содержание экзаменационной работы

Каждый вариант экзаменационной работы (200-е номера вариантов) содержит 10 заданий с кратким ответом, в которых необходимо записать ответ в виде целого числа, конечной десятичной дроби или последовательности цифр.

Задания 1–10 с кратким ответом группируются исходя из тематической принадлежности заданий: алгебра, уравнения и неравенства, функции, начала математического анализа, геометрия (планиметрия и стереометрия).

В экзаменационной работе контролируются элементы содержания из следующих курсов математики:

1. *Математика*. 5–6-е классы;
2. *Алгебра*. 7–9-е классы;
3. *Алгебра и начала математического анализа*. 10–11-е классы;
4. *Планиметрия*. 7–9-е классы;
5. *Стереометрия*. 10–11 классы;
6. *Вероятность и статистика*. 7–9-е классы.

В таблице 1 приведено распределение заданий по основным содержательным разделам.

Таблица 1. Распределение заданий по основным содержательным разделам (темам) курса математики

Содержательные разделы	Количество заданий
Алгебра	5
Уравнения и неравенства	1
Функции	1
Начала математического анализа	1
Геометрия	2
Итого	10

Экзаменационная работа проверяет освоение наиболее важных умений, формируемых при изучении курса математики:

уметь использовать приобретённые знания и умения в практической деятельности и повседневной жизни;

уметь выполнять вычисления и преобразования;

уметь решать уравнения и неравенства;

уметь выполнять действия с функциями;

уметь выполнять действия с геометрическими фигурами, координатами и векторами;

уметь строить и исследовать математические модели.

В таблице 2 приведено распределение заданий по видам умений и способам действий. Некоторые задания проверяют освоение нескольких видов умений.

Таблица 2. Распределение заданий по видам умений и способам действий

Проверяемые виды умений и способы действий	Количество заданий
Уметь использовать приобретённые знания и умения в практической деятельности и повседневной жизни	5
Уметь выполнять вычисления и преобразования	6
Уметь решать уравнения и неравенства	2
Уметь выполнять действия с функциями	1
Уметь выполнять действия с геометрическими фигурами, координатами и векторами	1
Уметь строить и исследовать математические модели	1

В экзаменационной работе представлены задания базового уровня сложности. Эти задания направлены на проверку освоения базовых умений и практических навыков применения математических знаний в повседневных ситуациях.

4. Система оценивания выполнения отдельных заданий и экзаменационной работы в целом

Каждое из заданий 1–10 с кратким ответом считается выполненным, если записанный ответ совпадает с верным ответом.

Максимальный балл за всю работу — 10.

Рекомендуется следующая шкала перевода суммы первичных баллов в пятибалльную систему оценивания.

Шкала пересчёта первичного балла за выполнение экзаменационной работы в отметку по пятибалльной шкале

Отметка по пятибалльной шкале	«2»	«3»	«4»	«5»
Общий балл	0–2	3–5	6–8	9–10

5. Продолжительность экзаменационной работы

На выполнение экзаменационной работы по математике предоставляется 3 часа 55 минут (235 минут).

6. Дополнительные материалы и оборудование

При проведении ГВЭ-11 в письменной форме используется: линейка, не содержащая справочной информации; справочные материалы, содержащие основные формулы курса математики образовательной программы основного общего и среднего общего образования.

Перечень средств обучения и воспитания, использование которых разрешено при проведении ГВЭ-11, утверждается приказом Минпросвещения России и Рособнадзора.

7. Изменения в экзаменационных материалах 2020 года по сравнению с 2019 годом.

Изменения в структуре и содержании экзаменационных материалов в 2020 году отсутствуют.

В Приложении приведён обобщённый план экзаменационной работы.

**Обобщённый план варианта экзаменационной работы ГВЭ-11
по математике
(200-е номера вариантов)**

Уровень сложности задания – Б – базовый (примерный уровень выполнения – 60–90%)

№	Проверяемые требования (умения)	Коды проверяемых требований (по КТ)	Коды проверяемых элементов содержания (по КЭС)	Уровень сложности задания	Максимальный балл за выполнение задания
1	Уметь использовать приобретённые знания и умения в практической деятельности и повседневной жизни	6.1	1.4.1	Б	1
2	Уметь использовать приобретённые знания и умения в практической деятельности и повседневной жизни	6.3	1.1.3	Б	1
3	Уметь решать уравнения и неравенства	2.1	2.1.1–2.1.6	Б	1
4	Уметь строить и исследовать простейшие математические модели	5.4	6.3.1	Б	1
5	Уметь использовать приобретённые знания и умения в практической деятельности и повседневной жизни	6.2, 3.1	6.2.1, 3.1.3	Б	1
6	Уметь выполнять вычисления и преобразования	1.1	1.1–1.4	Б	1
7	Уметь выполнять действия с геометрическими фигурами	4.1	5.1.1–5.1.5, 5.5.1, 5.5.3, 5.5.5	Б	1
8	Уметь строить и исследовать простейшие математические модели	4.1, 5.2	5.1.1–5.1.3, 5.5.1, 5.5.3, 5.5.5	Б	1
9	Уметь выполнять действия с функциями	3.1–3.3	4.1–4.3	Б	1
10	Уметь строить и исследовать простейшие математические модели	5.1	2.1, 2.2	Б	1

№	Проверяемые требования (умения)	Коды проверяемых требований (по КТ)	Коды проверяемых элементов содержания (по КЭС)	Уровень сложности задания	Максимальный балл за выполнение задания
<p>Всего заданий – 10; из них по типу заданий: с записью краткого ответа – 10; по уровню сложности: Б – 10. Максимальный балл – 10. Общее время выполнения работы – 235 минут.</p>					

**Образец экзаменационного материала
ГВЭ-11 (письменная форма) 2020 года по МАТЕМАТИКЕ
(100-е номера вариантов)**

Инструкция по выполнению работы

Экзаменационная работа включает в себя 12 заданий. На выполнение работы по математике отводится 3 часа 55 минут (235 минут).

Ответы к заданиям 1–10 запишите в поля ответов в работе, а затем перенесите в бланк ответов. Для этого в бланке ответов запишите номера всех заданий в столбец следующим образом:

- 1)
- 2)
- 3)
- ...
- 9)
- 10)

Ответы к заданиям 1–10 запишите в бланк ответов справа от номеров соответствующих заданий. В случае записи неверного ответа зачеркните его и запишите рядом новый.

При выполнении заданий 11 и 12 требуется записать полное решение и ответ в бланке ответов.

Бланк ответов заполняется яркими чёрными чернилами. Допускается использование гелевой или капиллярной ручки.

При выполнении заданий можно пользоваться черновиком. Записи в черновике не учитываются при оценивании работы.

Баллы, полученные Вами за выполненные задания, суммируются. Постарайтесь выполнить как можно больше заданий и набрать наибольшее количество баллов.

Желаем успеха!

Часть 1

Ответами к заданиям 1–10 являются целое число, конечная десятичная дробь или последовательность цифр. Запишите ответ в поле ответа в тексте работы, затем перенесите в БЛАНК ОТВЕТОВ справа от номера соответствующего задания. Единицы измерений писать не нужно.

1 Показания счётчика электроэнергии 1 марта составляли 48 001 кВт·ч, а 1 апреля — 48 146 кВт·ч. Сколько нужно заплатить за электроэнергию за март, если 1 кВт·ч электроэнергии стоит 1 руб. 20 коп.? Ответ дайте в рублях.

Ответ: _____.

2 Товар на распродаже уценили на 35%, при этом он стал стоить 1300 рублей. Сколько рублей стоил товар до распродажи?

Ответ: _____.

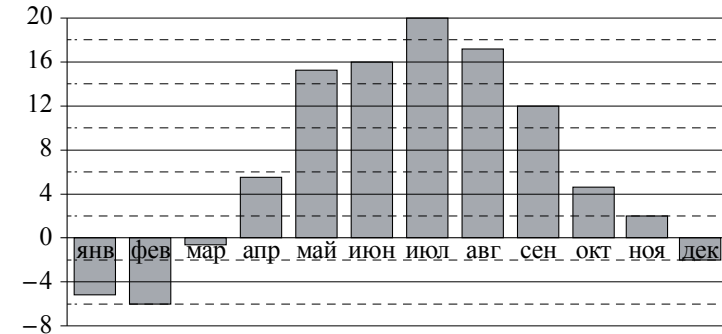
3 Найдите корень уравнения $\log_5(4x + 7) = 2$.

Ответ: _____.

4 Перед началом первого тура чемпионата по настольному теннису участников разбивают на игровые пары случайным образом с помощью жребия. Всего в чемпионате участвует 26 спортсменов, среди них 6 спортсменов из России, в том числе спортсмен Т. Найдите вероятность того, что в первом туре Т. будет играть с каким-либо спортсменом из России.

Ответ: _____.

5 На диаграмме показана среднемесячная температура воздуха в Минске за каждый месяц 2003 года. По горизонтали указываются месяцы, по вертикали — температура в градусах Цельсия.



Определите по диаграмме наибольшую среднемесячную температуру в период с сентября по декабрь 2003 года. Ответ дайте в градусах Цельсия.

Ответ: _____.

6 Каждому из четырёх неравенств в левом столбце соответствует одно из решений в правом столбце. Установите соответствие между неравенствами и их решениями.

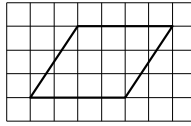
НЕРАВЕНСТВА	РЕШЕНИЯ
А) $2^{-x+1} < \frac{1}{2}$	1)
Б) $\frac{(x-5)^2}{x-4} < 0$	2)
В) $\log_4 x > 1$	3)
Г) $(x-4)(x-2) < 0$	4)

Впишите в приведённую в ответе таблицу под каждой буквой соответствующий решению номер.

Ответ:

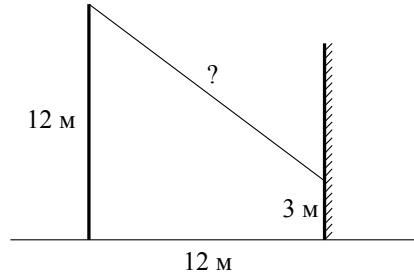
А	Б	В	Г

- 7 На клетчатой бумаге с размером клетки 1×1 изображён параллелограмм. Найдите его площадь.



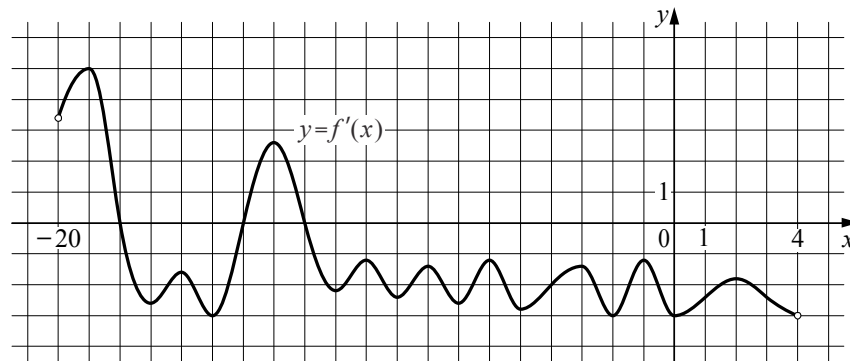
Ответ: _____.

- 8 От столба высотой 12 м к дому натянут провод, который крепится на высоте 3 м от земли (см. рисунок). Расстояние от дома до столба 12 м. Найдите длину провода. Ответ дайте в метрах.



Ответ: _____.

- 9 На рисунке изображён график $y = f'(x)$ — производной функции $f(x)$, определённой на интервале $(-20; 4)$. Найдите количество точек экстремума функции $f(x)$, принадлежащих отрезку $[-17; 0]$.



Ответ: _____.

- 10 Из А в В одновременно выехали два автомобиля. Первый проехал с постоянной скоростью весь путь. Второй проехал первую половину пути со скоростью 55 км/ч, а вторую половину пути проехал со скоростью, большей скорости первого на 6 км/ч, в результате чего прибыл в В одновременно с первым автомобилем. Найдите скорость первого автомобиля. Ответ дайте в км/ч.

Ответ: _____.

Не забудьте перенести все ответы в БЛАНК ОТВЕТОВ в соответствии с инструкцией по выполнению работы.

Часть 2

Для записи решений и ответов на задания 11 и 12 используйте БЛАНК ОТВЕТОВ. Запишите сначала номер выполняемого задания (11 или 12), а затем полное обоснованное решение и ответ. Ответы записывайте чётко и разборчиво.

- 11 а) Решите уравнение $(81^{\cos x})^{\sin x} = 9^{-\sqrt{3} \cos x}$.
 б) Найдите все корни этого уравнения, принадлежащие отрезку $\left[-2\pi; -\frac{\pi}{2}\right]$.
- 12 В тетраэдре $ABCD$ ребро AD имеет длину 6, а все остальные рёбра равны 4.
 а) Докажите, что прямые AD и BC перпендикулярны.
 б) Найдите площадь сечения тетраэдра плоскостью, содержащей прямую BC и перпендикулярной прямой AD .

**Система оценивания экзаменационной работы по математике
(100-е номера вариантов)**

Каждое из заданий 1–10 считается выполненными верно, если экзаменуемый дал верный ответ в виде целого числа, конечной десятичной дроби или последовательности цифр. Каждое верно выполненное задание оценивается 1 баллом.

Ответы к заданиям 1–10

№ задания	Ответ
1	174
2	2000
3	4,5
4	0,2
5	12
6	4312
7	12
8	15
9	2
10	60

Решения и критерии оценивания заданий 11 и 12

Количество баллов, выставляемых за выполнение заданий 11 и 12, зависит от полноты решения и правильности ответа.

Общие требования к выполнению заданий с развёрнутым ответом: решение должно быть математически грамотным, полным, в частности все возможные случаи должны быть рассмотрены. Методы решения, формы его записи и формы записи ответа могут быть разными. За решение, в котором обоснованно получен правильный ответ, выставляется максимальное количество баллов. Правильный ответ при отсутствии текста решения оценивается в 0 баллов.

Эксперты проверяют только математическое содержание представленного решения, а особенности записи не учитывают.

В критериях оценивания конкретных заданий содержатся общие требования к выставлению баллов.

При выполнении задания можно использовать без доказательства и ссылок любые математические факты, содержащиеся в учебниках и учебных пособиях, входящих в федеральный перечень учебников, рекомендуемых к использованию при реализации имеющих государственную аккредитацию образовательных программ среднего общего образования.

11

а) Решите уравнение $(81^{\cos x})^{\sin x} = 9^{-\sqrt{3} \cos x}$.

б) Найдите все корни этого уравнения, принадлежащие отрезку $[-2\pi; -\frac{\pi}{2}]$.

Решение.

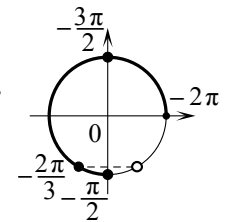
а) Запишем исходное уравнение в виде:

$$9^{2\cos x \sin x} = 9^{-\sqrt{3} \cos x}; 2\sin x \cos x = -\sqrt{3} \cos x; \cos x \cdot (2\sin x + \sqrt{3}) = 0.$$

Значит, либо $\cos x = 0$, откуда $x = \frac{\pi}{2} + \pi k$, $k \in \mathbb{Z}$, либо $\sin x = -\frac{\sqrt{3}}{2}$,

откуда $x = -\frac{\pi}{3} + 2\pi n$, $n \in \mathbb{Z}$, или $x = -\frac{2\pi}{3} + 2\pi m$, $m \in \mathbb{Z}$.

б) С помощью числовой окружности отберём корни, принадлежащие отрезку $[-2\pi; -\frac{\pi}{2}]$.



Получим числа: $-\frac{3\pi}{2}$; $-\frac{2\pi}{3}$; $-\frac{\pi}{2}$.

Ответ: а) $\frac{\pi}{2} + \pi k$, $k \in \mathbb{Z}$; $-\frac{\pi}{3} + 2\pi n$, $n \in \mathbb{Z}$; $-\frac{2\pi}{3} + 2\pi m$, $m \in \mathbb{Z}$;

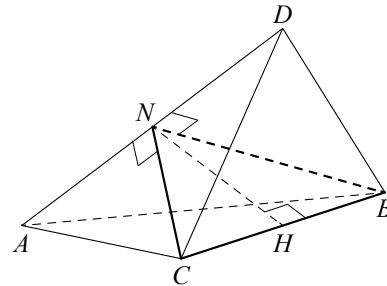
б) $-\frac{3\pi}{2}$; $-\frac{2\pi}{3}$; $-\frac{\pi}{2}$.

Содержание критерия	Баллы
Обоснованно получены верные ответы в обоих пунктах	2
Обоснованно получен верный ответ в пункте а ИЛИ получены неверные ответы из-за вычислительной ошибки, но при этом имеется верная последовательность всех шагов решения обоих пунктов: пункта а и пункта б	1
Решение не соответствует ни одному из критериев, перечисленных выше	0
<i>Максимальный балл</i>	2

- 12** В тетраэдре $ABCD$ ребро AD имеет длину 6, а все остальные рёбра равны 4.
 а) Докажите, что прямые AD и BC перпендикулярны.
 б) Найдите площадь сечения тетраэдра плоскостью, содержащей прямую BC и перпендикулярной прямой AD .

Решение.

- а) Пусть N — середина ребра AD , тогда медианы BN и CN равнобедренных треугольников ABD и ACD соответственно перпендикулярны AD . Значит, плоскость BNC перпендикулярна прямой AD , поэтому прямые AD и BC перпендикулярны.
 б) Треугольник BNC является сечением тетраэдра плоскостью, содержащей прямую BC и перпендикулярной прямой AD .



Из равных равнобедренных треугольников ABD и ACD находим:

$$CN = BN = \sqrt{AB^2 - AN^2} = \sqrt{7}.$$

В равнобедренном треугольнике BNC высота NH , проведённая к основанию, равна

$$\sqrt{BN^2 - \frac{BC^2}{4}} = \sqrt{3},$$

значит, площадь треугольника BNC равна $2\sqrt{3}$.

Ответ: б) $2\sqrt{3}$.

Содержание критерия	Баллы
Имеется верное доказательство утверждения пункта <i>a</i> и обоснованно получен верный ответ в пункте <i>b</i>	2
Имеется верное доказательство утверждения пункта <i>a</i> ИЛИ обоснованно получен верный ответ в пункте <i>b</i>	1
Решение не соответствует ни одному из критериев, перечисленных выше	0
<i>Максимальный балл</i>	2

**Образец экзаменационного материала
 ГВЭ-11 (письменная форма) 2020 года по МАТЕМАТИКЕ
 (200-е номера вариантов)**

Инструкция по выполнению работы

Экзаменационная работа состоит из 10 заданий. На выполнение работы по математике отводится 3 часа 55 минут (235 минут).

Ответы к заданиям 1–10 запишите в поля ответов в работе, а затем перенесите в бланк ответов. Для этого в бланке ответов запишите номера всех заданий в столбец следующим образом:

- 1)
- 2)
- 3)
- ...
- 9)
- 10)

Ответы к заданиям 1–10 запишите в бланк ответов справа от номеров соответствующих заданий. В случае записи неверного ответа зачеркните его и запишите рядом новый.

Бланк ответов заполняется яркими чёрными чернилами. Допускается использование гелевой, или капиллярной, или перьевой ручки.

При выполнении заданий можно пользоваться черновиком. Записи в работе и черновике не учитываются при оценивании работы.

Баллы, полученные Вами за выполненные задания, суммируются. Постарайтесь выполнить как можно больше заданий и набрать наибольшее количество баллов.

Желаем успеха!

Часть 1

Ответами к заданиям 1–10 являются целое число, конечная десятичная дробь или последовательность цифр. Запишите ответ в поле ответа в тексте работы, затем перенесите в БЛАНК ОТВЕТОВ справа от номера соответствующего задания. Единицы измерений писать не нужно.

1 Диагональ экрана телевизора равна 40 дюймам. Выразите диагональ экрана в сантиметрах. Считайте, что 1 дюйм равен 2,54 см. Результат округлите до целого числа.

Ответ: _____.

2 Набор полотенец, который стоил 250 рублей, продаётся со скидкой 18%. Сколько рублей стоят два набора полотенец со скидкой?

Ответ: _____.

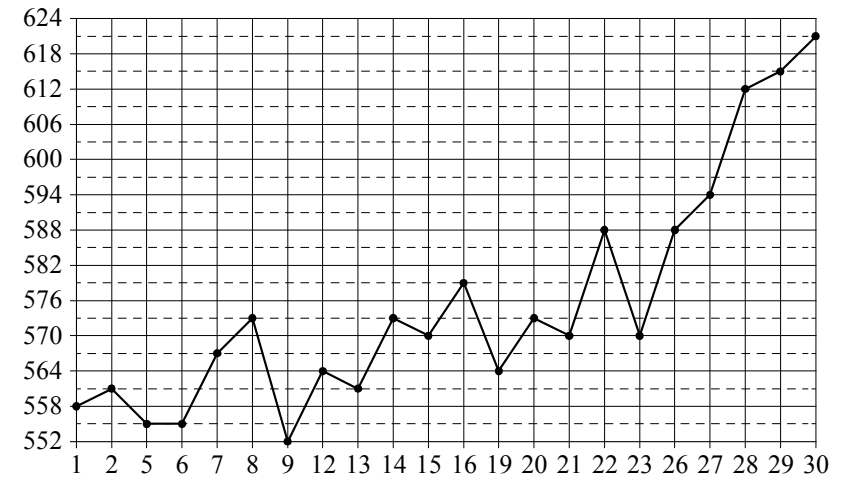
3 Найдите корень уравнения $\log_5(4x + 7) = 2$.

Ответ: _____.

4 В соревнованиях по толканию ядра участвуют 9 спортсменов из Дании, 3 спортсмена из Швеции, 8 спортсменов из Норвегии и 5 — из Финляндии. Порядок, в котором выступают спортсмены, определяется жребием. Найдите вероятность того, что спортсмен, выступающий последним, окажется из Финляндии.

Ответ: _____.

5 На рисунке жирными точками показана цена палладия, установленная Центробанком РФ во все рабочие дни в октябре 2010 года. По горизонтали указываются числа месяца, по вертикали — цена палладия в рублях за грамм. Для наглядности жирные точки на рисунке соединены линией.



Определите по рисунку, какого числа цена палладия была наибольшей за данный период.

Ответ: _____.

6 Каждому из четырёх неравенств в левом столбце соответствует одно из решений в правом столбце. Установите соответствие между неравенствами и их решениями.

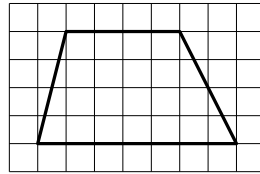
НЕРАВЕНСТВА	РЕШЕНИЯ
А) $\log_4 x > 0$	1) $(-\infty; 1) \cup (5; +\infty)$
Б) $4^{-x+7} > 16$	2) $(1; +\infty)$
В) $\frac{x-1}{x-5} < 0$	3) $(1; 5)$
Г) $\frac{1}{(x-5)(x-1)} > 0$	4) $(-\infty; 5)$

Впишите в приведённую в ответе таблицу под каждой буквой соответствующий решению номер.

Ответ:

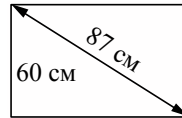
А	Б	В	Г

- 7 На клетчатой бумаге с размером клетки 1×1 изображена трапеция. Найдите длину средней линии этой трапеции.



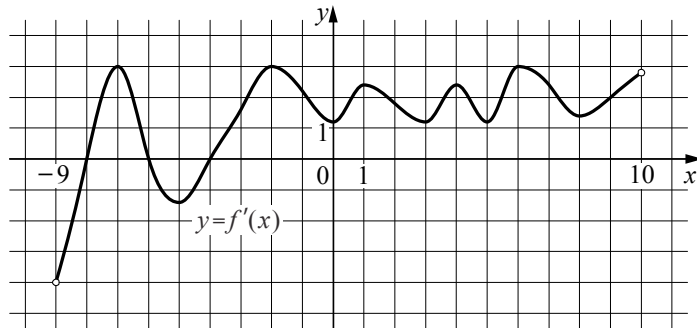
Ответ: _____.

- 8 Диагональ прямоугольного экрана монитора равна 87 см, а высота экрана 60 см. Найдите ширину экрана. Ответ дайте в сантиметрах.



Ответ: _____.

- 9 На рисунке изображён график $y = f'(x)$ — производной функции $f(x)$, определённой на интервале $(-9; 10)$. Найдите количество точек экстремума функции $f(x)$, принадлежащих отрезку $[-5; 9]$.



Ответ: _____.

- 10 Из А в В одновременно выехали два автомобиля. Первый проехал с постоянной скоростью весь путь. Второй проехал первую половину пути со скоростью 55 км/ч, а вторую половину пути проехал со скоростью, большей скорости первого на 6 км/ч, в результате чего прибыл в В одновременно с первым автомобилем. Найдите скорость первого автомобиля. Ответ дайте в км/ч.

Ответ: _____.

Не забудьте перенести все ответы в БЛАНК ОТВЕТОВ в соответствии с инструкцией по выполнению работы.

**Система оценивания экзаменационной работы по математике
(200-е номера вариантов)**

Каждое из заданий 1–10 считается выполненными верно, если экзаменуемый дал верный ответ в виде целого числа, конечной десятичной дроби или последовательности цифр. Каждое верно выполненное задание оценивается 1 баллом.

Ответы к заданиям 1–10

№ задания	Ответ
1	102
2	410
3	4,5
4	0,2
5	30
6	2431
7	5,5
8	63
9	1
10	60

**Образец экзаменационного материала
ГВЭ-11 (письменная форма) 2020 года по МАТЕМАТИКЕ
(300-е номера вариантов)**

Инструкция по выполнению работы

Экзаменационная работа включает в себя 12 заданий. На выполнение работы по математике отводится 3 часа 55 минут (235 минут).

Ответы к заданиям 1–10 запишите в бланке ответов. Для этого в бланке ответов запишите номера всех заданий в столбец следующим образом:

- 1)
- 2)
- 3)
- ...
- 9)
- 10)

Ответы к заданиям 1–10 запишите в бланк ответов справа от номеров соответствующих заданий. В случае записи неверного ответа зачеркните его и запишите рядом новый.

При выполнении заданий 11 и 12 требуется записать полное решение и ответ в бланке ответов.

Баллы, полученные Вами за выполненные задания, суммируются. Постарайтесь выполнить как можно больше заданий и набрать наибольшее количество баллов.

Желаем успеха!

Часть 1

Ответами к заданиям 1–10 являются целое число, конечная десятичная дробь или последовательность цифр.

- 1** Шоколадка стоит 20 рублей. В воскресенье в супермаркете действует специальное предложение: заплатив за две шоколадки, покупатель получает три (одну в подарок). Какое наибольшее количество шоколадок можно получить, потратив не более 210 рублей в воскресенье?

Ответ: _____.

- 2** Налог на доходы физических лиц в России составляет 13% заработной платы. Заработная плата Ивана Кузьмича равна 20 000 рублей. Какую сумму он получит после уплаты этого налога?

Ответ: _____.

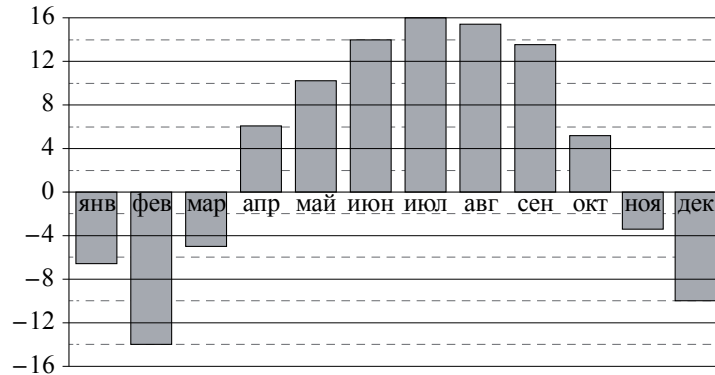
- 3** Найдите корень уравнения $\log_5(4x + 7) = 2$.

Ответ: _____.

- 4** На чемпионате по прыжкам в воду выступают 25 спортсменов, среди них 8 прыгунов из России и 9 прыгунов из Китая. Порядок выступлений определяется жеребьёвкой. Найдите вероятность того, что шестым будет выступать прыгун из Китая.

Ответ: _____.

- 5 На диаграмме показана среднемесячная температура воздуха в Нижнем Новгороде за каждый месяц 1994 года. По горизонтали указываются месяцы, по вертикали — температура в градусах Цельсия. Определите по приведённой диаграмме, сколько было месяцев с положительной среднемесячной температурой.



Ответ: _____.

- 6 Каждому из четырёх чисел в левом столбце соответствует отрезок, которому оно принадлежит. Установите соответствие между числами и отрезками из правого столбца.

ЧИСЛА	ОТРЕЗКИ
А) $\log_5 20$	1) $[0; 1]$
Б) $\frac{29}{13}$	2) $[1; 2]$
В) $\sqrt{10}$	3) $[2; 3]$
Г) $2,3^{-3}$	4) $[3; 4]$

Впишите в приведённую в ответе таблицу под каждой буквой соответствующий отрезку номер.

Ответ:

А	Б	В	Г

- 7 Стороны параллелограмма равны 12 и 15. Высота, опущенная на первую из этих сторон, равна 10. Найдите высоту, опущенную на вторую сторону параллелограмма.

Ответ: _____.

- 8 Участок земли для строительства санатория имеет форму прямоугольника, стороны которого равны 900 м и 400 м. Одна из больших сторон участка идёт вдоль моря, а три остальные стороны нужно отгородить забором. Найдите длину этого забора. Ответ дайте в метрах.

Ответ: _____.

- 9 Прямая $y = 5x + 8$ параллельна касательной к графику функции $y = x^2 - 9x - 37$. Найдите абсциссу точки касания.

Ответ: _____.

- 10 Из А в В одновременно выехали два автомобиля. Первый проехал с постоянной скоростью весь путь. Второй проехал первую половину пути со скоростью 55 км/ч, а вторую половину пути проехал со скоростью, большей скорости первого на 6 км/ч, в результате чего прибыл в В одновременно с первым автомобилем. Найдите скорость первого автомобиля. Ответ дайте в км/ч.

Ответ: _____.

Не забудьте перенести все ответы в БЛАНК ОТВЕТОВ в соответствии с инструкцией по выполнению работы.

Часть 2

Для записи решений и ответов на задания 11 и 12 используйте БЛАНК ОТВЕТОВ. Запишите сначала номер выполняемого задания (11 или 12), а затем полное обоснованное решение и ответ.

- 11 а) Решите уравнение $\cos 2x = 1 - \cos\left(\frac{\pi}{2} - x\right)$.
 б) Найдите все корни этого уравнения, принадлежащие промежутку $\left[-\frac{5\pi}{2}; -\pi\right)$.

- 12 В тетраэдре $ABCD$ ребро AD имеет длину 7, а все остальные рёбра равны 6.
 а) Докажите, что прямые AD и BC перпендикулярны.
 б) Найдите расстояние между прямыми AD и BC .

**Система оценивания экзаменационной работы по математике
(300-е номера вариантов)**

Каждое из заданий 1–10 считается выполненными верно, если экзаменуемый дал верный ответ в виде целого числа, конечной десятичной дроби или последовательности цифр. Каждое верно выполненное задание оценивается 1 баллом.

Ответы к заданиям 1–10

№ задания	Ответ
1	15
2	17 400
3	4,5
4	0,36
5	7
6	2341
7	8
8	1700
9	7
10	60

Решения и критерии оценивания заданий 11 и 12

Количество баллов, выставляемых за выполнение заданий 11 и 12, зависит от полноты решения и правильности ответа.

Общие требования к выполнению заданий с развёрнутым ответом: решение должно быть математически грамотным, полным, в частности все возможные случаи должны быть рассмотрены. Методы решения, формы его записи и формы записи ответа могут быть разными. За решение, в котором обоснованно получен правильный ответ, выставляется максимальное количество баллов. Правильный ответ при отсутствии текста решения оценивается в 0 баллов.

Эксперты проверяют только математическое содержание представленного решения, а особенности записи не учитывают.

В критериях оценивания конкретных заданий содержатся общие требования к выставлению баллов.

При выполнении задания можно использовать без доказательства и ссылок любые математические факты, содержащиеся в учебниках и учебных пособиях, входящих в федеральный перечень учебников, рекомендуемых к использованию при реализации имеющих государственную аккредитацию образовательных программ среднего общего образования.

11

а) Решите уравнение $\cos 2x = 1 - \cos\left(\frac{\pi}{2} - x\right)$.

б) Найдите все корни этого уравнения, принадлежащие промежутку $\left[-\frac{5\pi}{2}; -\pi\right)$.

Решение.

а) Преобразуем обе части уравнения:

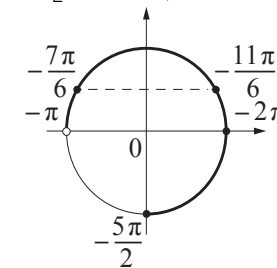
$$1 - 2\sin^2 x = 1 - \sin x; \quad 2\sin^2 x - \sin x = 0; \quad \sin x(2\sin x - 1) = 0,$$

откуда $\sin x = 0$ или $\sin x = \frac{1}{2}$.

Из уравнения $\sin x = 0$ находим: $x = \pi n$, где $n \in \mathbb{Z}$.

Из уравнения $\sin x = \frac{1}{2}$ находим: $x = \frac{\pi}{6} + 2\pi k$, $k \in \mathbb{Z}$; $x = \frac{5\pi}{6} + 2\pi m$, $m \in \mathbb{Z}$.

б) С помощью числовой окружности отберём корни уравнения, принадлежащие промежутку $\left[-\frac{5\pi}{2}; -\pi\right)$.



Получаем: -2π ; $-\frac{11\pi}{6}$; $-\frac{7\pi}{6}$.

Ответ: а) πn , $n \in \mathbb{Z}$; $\frac{\pi}{6} + 2\pi k$, $k \in \mathbb{Z}$; $\frac{5\pi}{6} + 2\pi m$, $m \in \mathbb{Z}$;

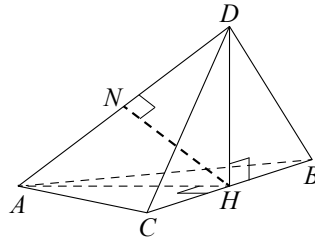
б) -2π ; $-\frac{11\pi}{6}$; $-\frac{7\pi}{6}$.

Содержание критерия	Баллы
Обоснованно получены верные ответы в обоих пунктах	2
Обоснованно получен верный ответ в пункте а, ИЛИ получены неверные ответы из-за вычислительной ошибки, но при этом имеется верная последовательность всех шагов решения обоих пунктов: пункта а и пункта б	1
Решение не соответствует ни одному из критериев, перечисленных выше	0
<i>Максимальный балл</i>	2

- 12** В тетраэдре $ABCD$ ребро AD имеет длину 7, а все остальные рёбра равны 6.
 а) Докажите, что прямые AD и BC перпендикулярны.
 б) Найдите расстояние между прямыми AD и BC .

Решение.

а) Пусть H — середина ребра BC , тогда медианы AH и DH равнобедренных треугольников BAC и BDC соответственно перпендикулярны BC . Значит, плоскость AHD перпендикулярна прямой BC , поэтому прямые AD и BC перпендикулярны.



б) Поскольку плоскость AHD перпендикулярна прямой BC , расстояние между прямыми AD и BC равно высоте треугольника AHD , опущенной из вершины H .

Из равных равнобедренных треугольников BAC и BDC находим:

$$DH = AH = \sqrt{AC^2 - CH^2} = 3\sqrt{3}.$$

В равнобедренном треугольнике AHD высота HN , проведённая к основанию, равна

$$\sqrt{AH^2 - \frac{AD^2}{4}} = \frac{\sqrt{59}}{2}.$$

Ответ: б) $\frac{\sqrt{59}}{2}$.

Содержание критерия	Баллы
Имеется верное доказательство утверждения пункта a , и обоснованно получен верный ответ в пункте b	2
Имеется верное доказательство утверждения пункта a , ИЛИ обоснованно получен верный ответ в пункте b	1
Решение не соответствует ни одному из критериев, перечисленных выше	0
<i>Максимальный балл</i>	2